

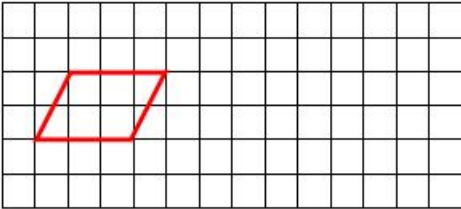


**【学习任务三】**

将下列图形按要求进行放大或缩小。

挑战难度	挑战内容
☆	将正方形各边按1:3缩小 
☆☆	将三角形各边按2:1放大 
☆☆☆	将平行四边形各边按3:1放大 

【学习任务四】 六年级一班 40 名同学中有 16 名同学确定能够参加。照这样的比例，整个六年级 420 人有多少人会参加呢？

【学习任务五】 原来我们预计 126 人参加，只准备了人均 80 克的糯米，现在人数增加到 168 人，人均分得多少克糯米呢？